



LE TEMPS ET LA FRISE CHRONOLOGIQUE


1 Écrire des dates en chiffres romains

Chiffres	
arabes	romains
1	I
2	II
3	III
4	IV
5	V
6	VI
7	VII
8	VIII

Chiffres	
arabes	romains
9	IX
10	X
11	XI
12	XII
13	XIII
20	XX
21	XXI
22	XXII

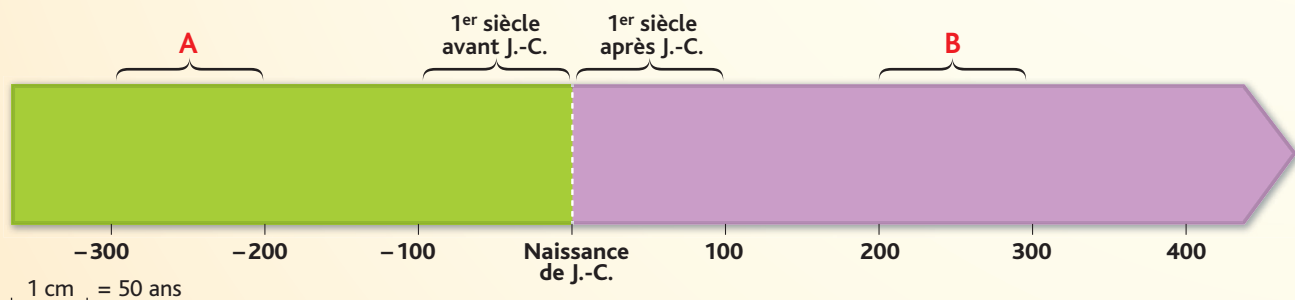
- Écrivez les chiffres romains allant de 14 à 19 puis de 23 à 30.
- Écrivez en chiffres romains :
 - 1^{er} siècle
 - 5^e siècle
 - 9^e siècle
 - 3^e millénaire

2 Connaître les périodes du temps : les millénaires



- À combien d'années correspond un millénaire ?
- À quel millénaire correspondent les lettres A et B sur la frise chronologique ?
- À quel millénaire appartiennent les années suivantes :
 - 250 après J.-C. ?
 - 450 avant J.-C. ?
 - 1600 avant J.-C. ?

3 Connaître les périodes du temps : les siècles



- À combien d'années correspond un siècle ?
- À quel siècle correspondent les lettres A et B sur la frise chronologique ?
- À quel siècle appartiennent les années :
 - 33 après J.-C.
 - 27 avant J.-C.
 - 212 après J.-C.
 - 323 avant J.-C.

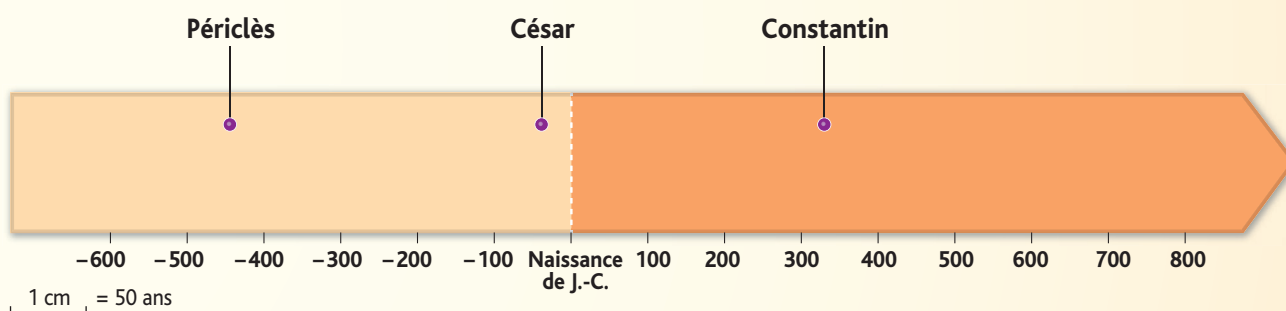
4 Situez des dates dans le temps

- Recopiez et complétez le tableau suivant.

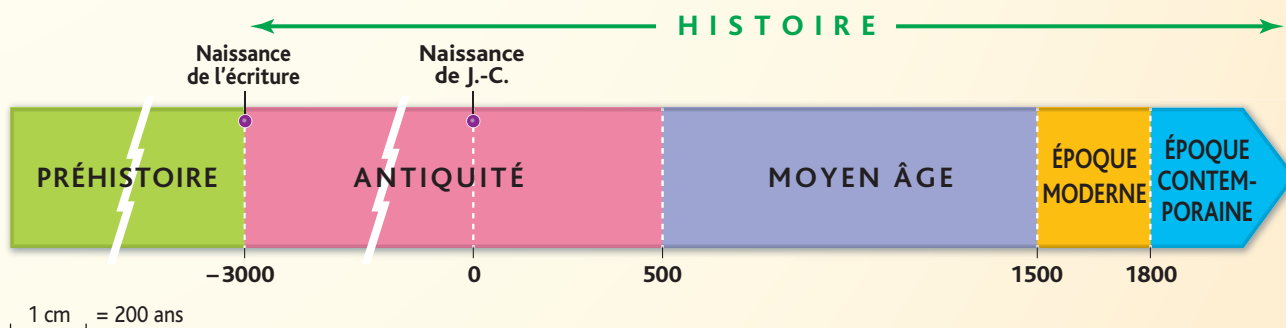
Date	Siècle	Millénaire
2720 avant J.-C.		
490 avant J.-C.		
322 avant J.-C.		
27 avant J.-C.		
212 après J.-C.		
313 après J.-C.		
800 après J.-C.		

5 Situer des personnages dans le temps

- Durant quel siècle a vécu Périclès ? César ? Constantin ?



6 Connaître les périodes de l'Histoire



- Quand commence l'Histoire ?
- Quelles sont les limites dans le temps de chaque période historique (Antiquité, Moyen Âge, Époque moderne, Époque contemporaine) ?
- Combien de temps chaque période historique a-t-elle duré ?