

ANALYSER UN GRAPHIQUE

SUJET : La contribution nette des pays au budget de l'Union européenne

En analysant ce graphique à l'aide de vos connaissances, vous analyserez la contribution nette des différents pays membres au budget de l'UE.

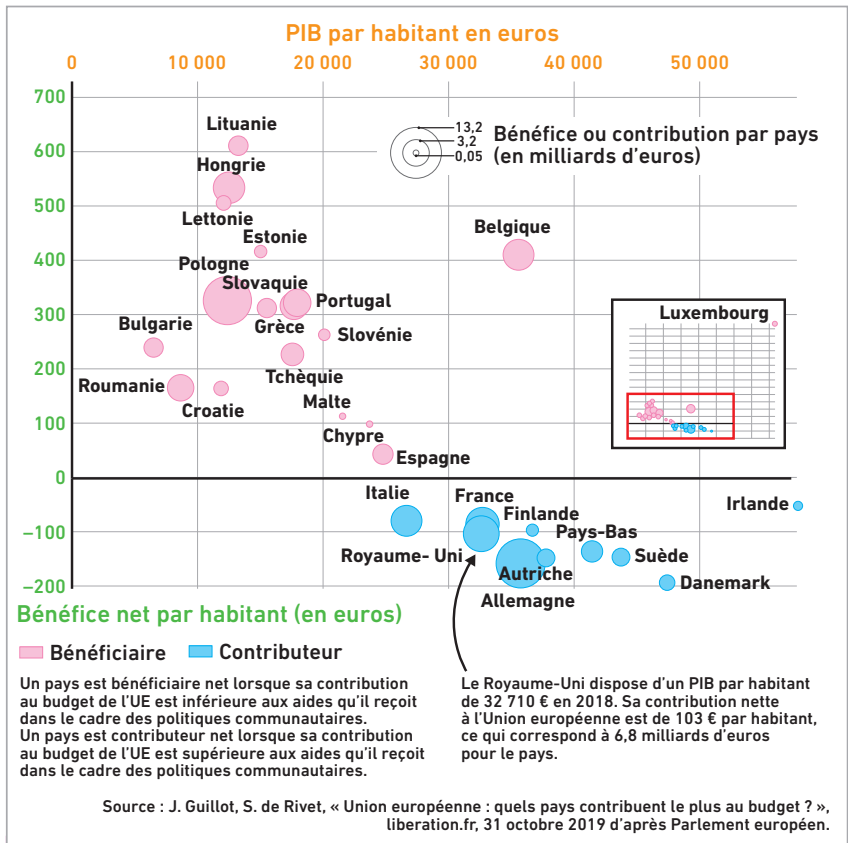
ÉTAPE 1 Analyser la consigne

Il faut analyser les termes du sujet :

« La contribution nette des pays » : le fait que les États financent l'UE par les versements.

« au budget de l'UE » : l'UE, l'organisation régionale la plus intégrée du monde, dont le budget permet de financer des politiques communautaires, notamment la PAC, la politique de cohésion, etc.

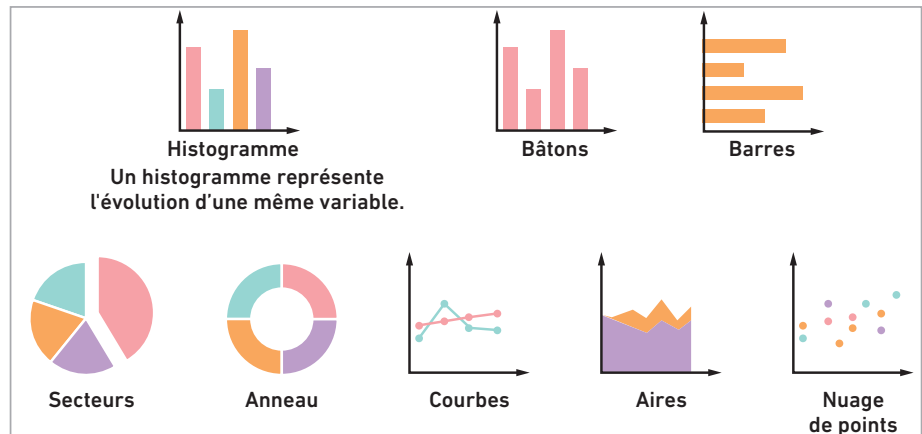
La question porte sur le chapitre 5.



La contribution nette des pays à l'Union européenne

ÉTAPE 2 Déterminer le type de graphique

Le document étudié ici est un graphique en nuage de points. Un tel graphique permet de mettre en relation des données de natures différentes.

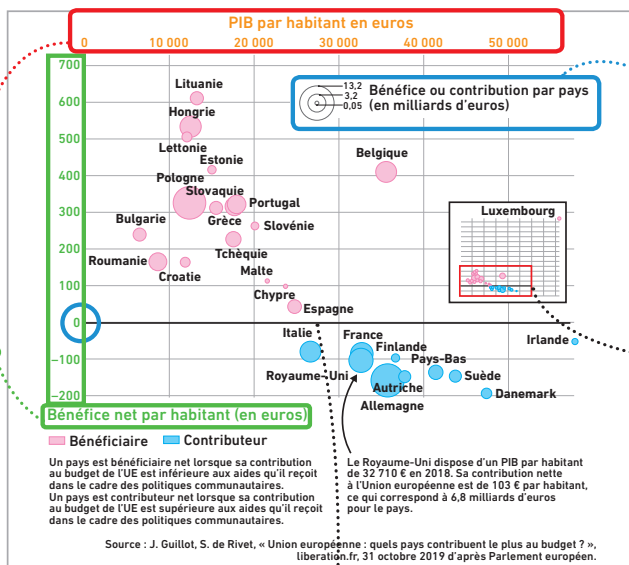


ÉTAPE 3 Lire le graphique et en extraire les informations

Les données mises en relation ici sont :

– le PIB/hab. en euros, qui apparaît en abscisse. Le graphiste, pour des raisons de clarté, a mis l'échelle des valeurs en haut du graphique. Plus un pays se situe vers la droite du graphique, plus son PIB/hab. est élevé.

– en ordonnées, le bénéfice net/hab., en euros. L'échelle des valeurs présente une partie supérieure à 0, qui signale les pays bénéficiaires net, en rose, qui versent moins qu'ils ne perçoivent, et une partie inférieure à 0 qui signale les pays contributeurs nets, en bleu, qui versent plus qu'ils ne perçoivent.



L'ampleur du bénéfice ou de la contribution de chaque pays est indiquée par des ronds proportionnels, selon une échelle figurant en haut à droite du graphique.

Plus le bénéfice/hab. est important, plus le pays se trouve vers le haut du graphique.

Le graphiste a inséré un encart pour traiter le Luxembourg, qui sort des limites normales du graphique. Il vous faudra expliquer pourquoi grâce à vos connaissances.

Les pays représentés sont les 28 États-membres de l'UE, avant le Brexit, puisque les données datent de 2018. Votre connaissance de la géographie des disparités internes à l'UE en termes de richesse, mais aussi des pays bénéficiaires des politiques communautaires, va vous aider à comprendre et analyser le graphique.

ÉTAPE 4 Croiser vos connaissances et les enseignements du graphique

Pour éviter la simple description du graphique (paraphrase), vous devez l'expliquer grâce à vos connaissances sur différents aspects de la géographie de l'UE.

Au brouillon, construisez un tableau à trois colonnes qui vous donne aussi le plan de votre analyse.

Vous pouvez consacrer un point aux limites du document.

Informations du graphique	Explications grâce à mes connaissances	Limites du graphique
<p>► Existence de pays :</p> <ul style="list-style-type: none"> – bénéficiaires nets : 18 sur 28, en rose. Bénéfice inégal : certains pays plus particulièrement bénéficiaires : Pologne, Hongrie, Portugal, Grèce. Dominante Europe du Sud et de l'Est. – contributeurs nets : parfois dans des proportions importantes (Allemagne, France, Royaume-Uni). Dominante Europe du Nord-Ouest. <p>► Mise en relation de cette donnée avec le PIB/hab. : lien entre niveau de contribution et richesse : d'une manière générale, les pays riches de l'UE (droite du graphique) sont les plus importants contributeurs net (sous le 0 des ordonnées), les pays « pauvres » sont bénéficiaires.</p> <p>► Des cas particuliers de pays riches, mais bénéficiaires : le Luxembourg, qui sort des limites normales du graphique, mais aussi la Belgique.</p>	<p>► Existence de contributeurs et de bénéficiaires s'explique par :</p> <ul style="list-style-type: none"> – l'un des principes de l'UE : la solidarité entre pays membres – la politique de cohésion qui cherche à limiter les disparités entre territoires. <p>► Distinction Europe du Sud et de l'Est/Europe du Nord-Ouest : de fortes différences de richesse qui justifient des différences de contribution/hab. Financement des politiques repose sur la péréquation : les pays riches payent pour les plus pauvres <ul style="list-style-type: none"> – Europe du Sud : problème de développement ancien – Europe de l'Est : États membres entrés lors des derniers élargissements (2004, 2007, 2013). Retards économiques liés à l'appartenance ancienne au monde communiste. <p>► Belgique et Luxembourg : riches mais bénéficiaires car accueillent les institutions communautaires (Commission, Parlement) et reçoivent des fonds à cet effet.</p> </p>	<p>► Décalage de l'échelle des valeurs de l'abscisse. Encart pour le Luxembourg.</p> <p>► Le PIB/hab. n'est pas donné en ppa (parité de pouvoir d'achat).</p> <p>► Conseil de lecture sur le Royaume-Uni, alors qu'on sait en 2018 qu'il va sortir de l'UE. Une référence aux revendications récurrentes du Royaume-Uni, qui estimait que l'appartenance à l'UE lui coûtait trop cher par rapport aux bénéfices qu'il en tirait ?</p>

S'entraîner

Des graphiques à analyser dans le manuel

- Rubrique GÉOgraphique dans les pages Cours
- Exercice p. 61